
RAJOLA XERRAMECA

MUSEU DE CERÀMICA LA RAJOLETA

Educació Infantil



LA RAJOLA XERRAMECA

Educació Infantil

Dins l'oferta pedagògica dels Museus d'Esplugues de Llobregat trobem diferents activitats destinades a tots els nivells educatius. Es planteja la visita com un treball integral entre l'aula i el Museu, i es facilita als centres diferents materials per treballar a l'escola d'una manera opcional per completar els continguts treballats al Museu.

1. Proposta de treball previ a l'aula:

Es planteja un vídeo protagonitzat per la Rajola xerrameca que s'utilitza per introduir els conceptes bàsics a treballar i es presenta el museu on es durà a terme l'activitat.

És accessible i descarregable a través del Canal de Youtube dels Museus d'Esplugues de Llobregat.

2. Descripció de l'activitat que es realitzarà al Museu:

Descobrirem un espai nou, una fàbrica de ceràmica que feia rajoles com les que tenim a casa. Aprendre conceptes geomètrics bàsics: el quadrat i el triangle.

I, a través d'un conte, coneixem la història de 'La rajola xerrameca'. Ens parlarà d'amistat, de valorar les capacitats de cadascú i respectar la diversitat

Taller opcional: **Pintem una rajola de vela**

Durada: 1 h / 2 h (amb taller opcional)

Museu de Ceràmica La Rajoleta

#conte il·lustrat #diversitat #entorn #experimentació #matemàtiques

3. Proposta de treball posterior a l'aula:

Es facilita un treball posterior adjunt en aquest dossier que poden ajudar a acabar de consolidar els continguts, i és pot afegir al recull de tasques del curs.




Nom: _____

Dia: _____

TREBALLEM LES FORMES: El quadrat

1. Quants costats té un quadrat? Encercla el número correcte




1-2-3-4

Un quadrat

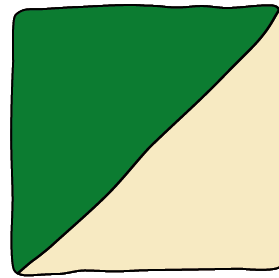
2. A la vida quotidiana hi han moltes coses quadrades. Per exemple:



Un regal



Un dau



UNA RAJOLA

3. Busca algun objecte quadrat i fes un dibuix:

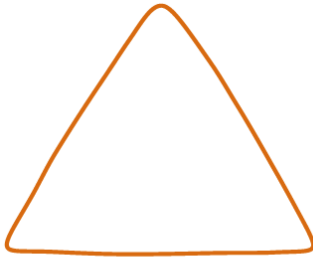


Nom: _____

Dia: _____

TREBALLEM LES FORMES: El triangle

1. Quants costats té un quadrat? Encercla el número correcte




1-2-3-4

Un triangle


2. A la vida quotidiana hi han moltes coses quadrades. Per exemple:



Un barret



Una tenda



Una pizza

3. Busca algun objecte en forma de triangle i fes un dibuix.






Nom: _____

Dia: _____


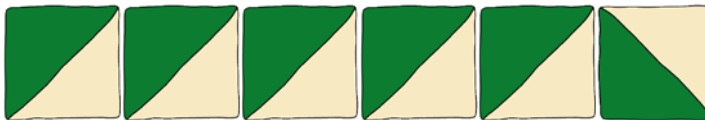
MATEMÀTIQUES A CASA

Comptem rajoles!



1. Compta quantes rajoles hi ha a cada línia i escriu el número al costat



2. Quants quadrats veus en aquesta imatge?



3. Quants triangles veus en aquesta imatge?



4. Escriu els números que falten:








Nom: _____

Dia: _____

LA RAJOLA DE VELA

Pinta, retalla i combina


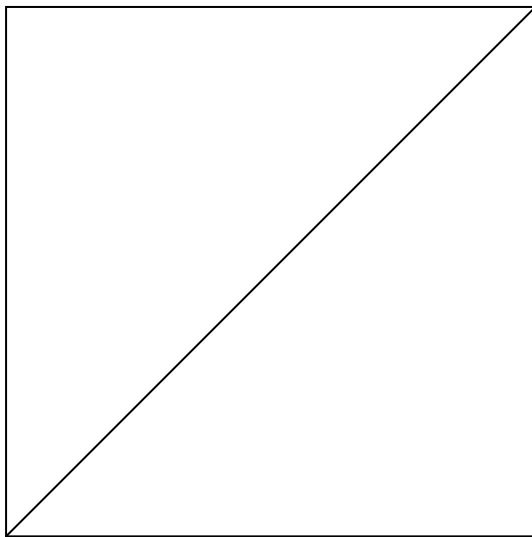






Museus d'Esplugues
de Llobregat

Can Tinturé

La Rajoleta



MUSEUS D'ESPLUGUES DE LLOBREGAT

SERVEI EDUCATIU I ACCESSIBILITAT

C, de l'Esglesia, 36

08950, Esplugues de Llobregat

Tel. 93 470 02 18

museus@esplugues.cat

www.museus.esplugues.cat

